

BÀI TẬP TOÁN LỚP 1

Bài 1: Điền >, <, =

$2 + 3 \dots\dots 5$

$6 - 4 \dots 2 + 5$

$2 + 2 \dots\dots 5$

$5 + 3 \dots 9$

$5 + 4 \dots\dots 9$

$2 + 4 \dots 4 + 2$

$7 + 1 \dots 8$

$1 + 4 \dots\dots 4 + 1$

$7 + 0 \dots 5 - 0$

$5 + 0 \dots\dots 2 + 3$

$7 + 2 \dots\dots 5 + 4$

$7 - 2 \dots\dots 3 + 3$

$2 + 2 \dots\dots 1 + 2$

$4 \dots\dots 6 - 1$

$2 + 1 \dots\dots 1 + 2$

$4 + 6 \dots 6 + 2$

$8 - 3 \dots\dots 3 + 5$

Bài 2: Điền số vào ô trống trong phép cộng, phép trừ

$1 + \square = 5$

$2 + \square = 8$

$0 + \square = 5$

$4 + \square = 8$

$4 + \square = 7$

$5 + \square = 9$

$1 + \square = 5$

$2 + \square = 7$

$3 + \square = 7$

$4 + \square = 10$

$1 + \square = 8$

$2 + \square = 10$

$3 + \square = 10$

$6 + \square = 9$

$7 + \square = 7$

$4 + \square = 8$

Bài 3. Tính

$1 + 5 =$

$1 + 3 =$

$1 + 4 =$

$2 + 3 =$

$2 + 6 =$

$2 + 8 =$

$3 + 6 =$

$3 + 7 =$

$3 + 2 =$

$4 + 5 =$

$4 + 2 =$

$4 + 1 =$

$5 + 1 =$

$5 + 2 =$

$5 + 4 =$

$6 + 2 =$

$6 + 3 =$

$6 + 4 =$

$7 + 1 =$

$7 + 3 =$

$7 + 2 =$

$8 + 1 =$

$8 + 2 =$

$8 + 0 =$

$9 + 0 =$

$9 + 1 =$

$9 + 2 =$

$10 + 2 =$

$10 + 0 =$

$10 + 6 =$

$11 + 2 =$

$11 + 3 =$

$11 + 6 =$

Bài 4. Tính

$6 - 2 =$

$4 - 1 =$

$5 - 3 =$

$3 - 1 =$

$2 - 1 =$

$5 - 3 =$

$4 - 2 =$

$4 - 3 =$

$6 - 3 =$

$5 - 2 =$

$5 - 0 =$

$7 - 3 =$

$8 - 5 =$

$9 - 4 =$

$7 - 6 =$

$10 - 6 =$

$8 - 6 =$

$6 - 5 =$

$4 - 3 =$

$7 - 3 =$

$9 - 7 =$

$3 - 3 =$

$8 - 4 =$

$9 - 3 =$

$5 - 1 =$

$7 - 6 =$

$8 - 8 =$

$2 - 2 =$

$9 - 5 =$

$8 - 0 =$

$3 - 1 =$

$7 - 7 =$

$5 - 3 =$

Bài 5. Tính

$6 - 2 =$

$1 + 5 =$

$7 - 7 =$

$5 + 2 =$

$7 - 6 =$

$4 + 3 =$

$9 - 5 =$

$7 + 1 =$

$7 + 3 =$

$2 + 0 =$

$3 + 5 =$

$5 - 2 =$

$8 + 2 =$

$2 - 1 =$

$6 - 5 =$

$4 - 4 =$

$6 + 3 =$

$8 - 6 =$

$7 - 3 =$

$5 + 2 =$

$6 - 4 =$

$3 + 6 =$

$9 - 4 =$

$7 - 3 =$

$7 + 2 =$

$6 + 4 =$

$10 + 0 =$

$9 - 5 =$

$4 + 2 =$

$5 + 4 =$

$3 + 6 =$

$6 + 1 =$

$8 - 2 =$

Bài 6. Khoanh vào số nhỏ nhất

8, 4, 10, 12, 9	11, 18, 19, 8	16, 13, 14, 20
3, 6, 9, 8, 12	12, 11, 10, 15	6, 9, 10, 1, 8

Bài 7. Khoanh vào số lớn nhất

12, 11, 10, 15	8, 4, 10, 12, 9	3, 6, 9, 8, 12
6, 9, 10, 1, 8	16, 13, 14, 20	11, 18, 19, 8

Bài 8. Điền <, >, =

$5 \square 6$

$10 \square 15$

$3 \square 3$

$5 + 3 \square 6 - 2$

$9 \square 9$

$5 \square 5 + 2$

$12 \square 14$

$18 \square 13$

$2 + 5 \square 7 + 1$

$4 + 4 \square 6 + 3$

$10 \square 8$

$4 \square 0$

$11 + 1 \square 8$

$12 \square 10$

$8 - 3 \square 5$

Bài 9. Vẽ đoạn thẳng theo các số đo sau:

Đoạn AB dài 4cm:

Đoạn AC dài 6cm:

Đoạn BC dài 10 cm:.....

Đoạn AB dài 12 cm:

Bài 10. Viết theo thứ tự từ bé đến lớn

8, 4, 10, 12, 9:.....

3, 6, 9, 8, 12:.....

16, 13, 14, 20:.....

6, 9, 10, 1, 8:.....

12, 11, 10, 15:.....

16, 18, 12, 10, 9:.....

18, 11, 3, 9, 12:.....

6, 7, 0, 3, 9, 11:.....

8. 4, 6, 7, 5, 2:.....

Bài 11. Tính

$1 + \dots = 5$

$3 + \dots = 6$

$4 + \dots = 5$

$\dots + 2 = 6$

$\dots + 1 = 3$

$\dots + 3 = 5$

$3 + \dots = 9$

$6 + \dots = 8$

$4 + \dots = 10$

$....+ 1 = 4$

$....+ 8 = 9$

$.....+ 2 = 6$

Bài 12. Tính

$12 + 3$

$15 + 4$

$16 + 2$

.....
.....
.....

$15 + 2$

$12 + 6$

$11 + 6$

.....
.....
.....

$11 + 4$

$14 + 2$

$11 + 6$

.....
.....
.....

$12 + 5$

$11 + 8$

$14 + 3$

.....
.....
.....

$10 + 5$

$13 + 6$

$15 + 3$

.....
.....
.....

Bài tập viết dãy số, sắp xếp các số

Bài 1. Viết các số: 5 , 2 , 8 , 4 , 9 , 0

- Theo thứ tự từ bé đến lớn:
- Theo thứ tự từ lớn đến bé:

Bài 2. Xếp các số sau: 1, 5, 9, 6, 3, 8

- Theo thứ tự từ bé đến lớn:
- Theo thứ tự từ lớn đến bé:

Bài 3. Viết các số: 16, 18, 13, 11, 10, 15.

- Theo thứ tự từ bé đến lớn:
- Theo thứ tự từ lớn đến bé:

Bài 4. Viết các số 13, 7, 11, 10, 18, 5

- Theo thứ tự từ bé đến lớn:
- Theo thứ tự từ lớn đến bé:

Bài 5. Viết các số: 12, 19, 11, 17, 10, 14.

- Theo thứ tự từ bé đến lớn:
- Theo thứ tự từ lớn đến bé:.....

Bài 6. Viết các số 7, 15, 19, 20, 13, 10 theo thứ tự:

- Từ bé đến lớn:
- Từ lớn đến bé:

Bài tập Toán phân biệt cao thấp

Câu hỏi 1: Bé xem hình hai giá sách dưới đây và chỉ ra giá sách nào cao hơn?



articleads11

A. Giá sách A

B. Giá sách B

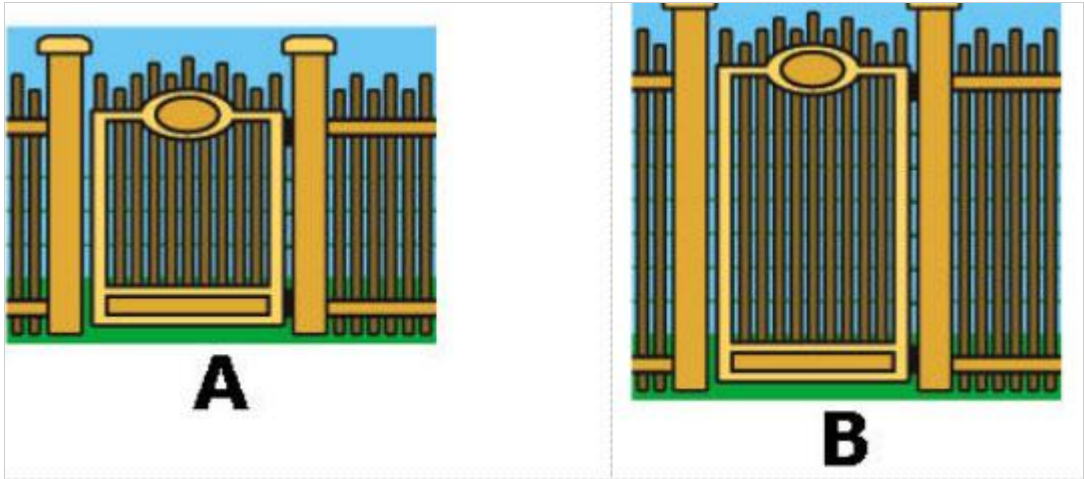
Câu hỏi 2: Cây dừa nào thấp hơn các bé nhỉ?



A. Cây dừa A

B. Cây dừa B


Câu hỏi 3: Cánh cổng nào cao hơn?



A. Cánh cổng phía tay phải

B. Cánh cổng phía tay trái

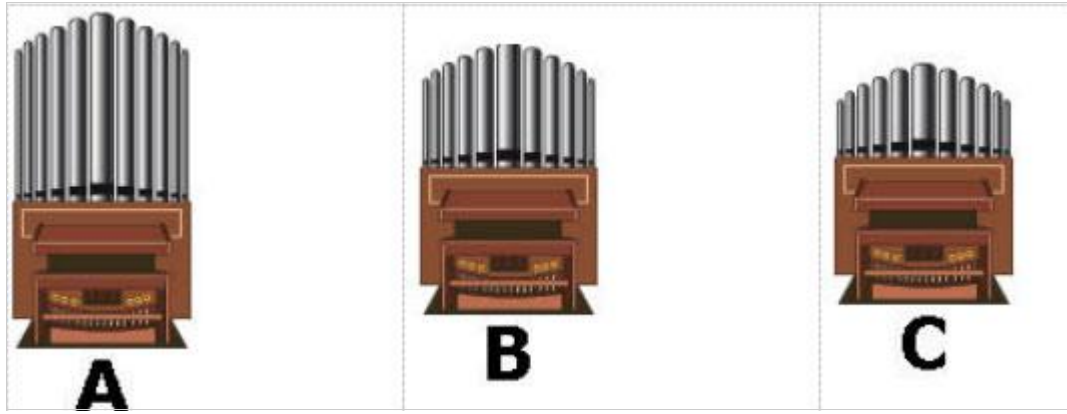
Câu hỏi 4: Lọ hoa nào cao hơn?



A. Lọ hoa B

B. Lọ hoa A

Câu hỏi 5: Chiếc đàn nào cao nhất trong số 3 chiếc đàn này?



A. Chiếc đàn A

B. Chiếc đàn B

C. Chiếc đàn C