

Đề thi kì 1 môn Toán lớp 1 năm 2023 - 2024 sách Chân trời sáng tạo

Đề 1

**MA TRẬN ĐỀ KIỂM TRA CUỐI KÌ 1
MÔN TOÁN LỚP 1
Năm học 2023 - 2024**

TT	Chủ đề	Số câu và số điểm	Mức 1 Nhận biết (50%)		Mức 2 Kết nối (30%)		Mức 3 Vận dụng (20%)		Tổng (100%)	
			TN	TL	TN	TL	TN	TL	TN	TL
	Số học: - Các số trong phạm vi 10 và các phép tính cộng trừ (không nhớ) trong phạm vi 10	Số câu	3	2	2	2		1	5	5
		Số điểm	1,5	3	0,5	2		1	2	6
		Câu số	1,2,3	5,6	7	9,10		12		
	Yếu tố hình học: vị trí, định hướng không gian; khối lập phương, khối hộp chữ nhật;	Số câu	1					1	1	1
		Số điểm	0,5		0,5			1	1	1
		Câu số	4		8			11		
Tổng	Số câu	4	2	1	2		2	6	6	
	Số điểm	2	3	1	2		2	3	7	

Duyệt của BGH

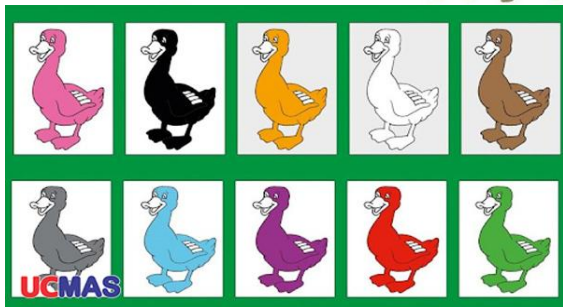

Tổ trưởng

Trường Tiểu học
Lớp: 1A....
Họ và tên:.....

KIỂM TRA CUỐI HỌC KÌ I
NĂM HỌC: 2023-2024
Môn: Toán
Thời gian: 40 Phút (không kể phát đề)

<u>Điểm</u>	<u>Lời nhận xét của giáo viên</u>	<u>PHHS ký</u>
-------------	--	----------------

Câu 1. (0.5đ) Khoanh vào số thích hợp :



6 5 4 3 7 8 9 10

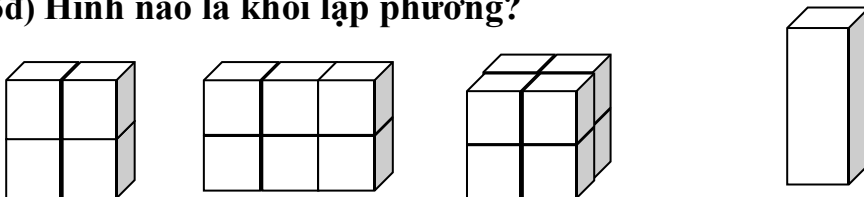
Câu 2. (0.5đ) Hãy khoanh vào chữ cái đặt trước câu trả lời đúng:
Các số lớn hơn 7?

- A. 5, 6, 7 B. 7, 8, 9 C. 8, 9, 10 D. 7, 1, 10

Câu 3. (0.5đ) Ghi đúng (Đ), sai (S) vào ô trống:

<input type="checkbox"/>	$0 = 7 - 7$	<input type="checkbox"/>	$9 - 5 = 3$
<input type="checkbox"/>	$6 = 4 + 3$	<input type="checkbox"/>	$10 - 8 = 2$

Câu 4.(0,5đ) Hình nào là khối lập phương?



A B C D

Câu 5. (2đ) Số?

a)

$$\begin{array}{r} 3 \\ + \\ \hline 6 \\ \hline \end{array}$$
$$\begin{array}{r} 10 \\ - \\ \hline 3 \\ \hline \end{array}$$
$$\begin{array}{r} 4 \\ + \\ \hline 6 \\ \hline \end{array}$$
$$\begin{array}{r} 7 \\ - \\ \hline 4 \\ \hline \end{array}$$

.....
.....
.....
.....

b) $8 + 0 + 2 = \dots\dots\dots$

$10 - 0 - 4 = \dots\dots\dots$

Câu 6. (1đ) Điền dấu <, >, = thích hợp vào chỗ chấm:

$8 - 2 \dots 5$

$1 + 3 \dots 4 + 3$

Câu 7. (0.5đ) Hãy khoanh vào chữ cái đặt trước câu trả lời đúng:

Số điền vào ô trống trong phép tính - 5 = 3

A. 7

B. 2

C. 6

D. 8

Câu 8. (0.5đ) Hãy khoanh vào chữ cái đặt trước câu trả lời đúng:

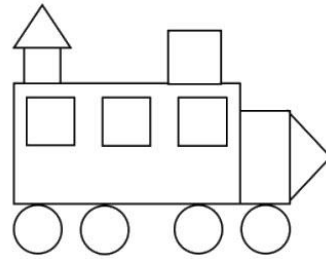
Hình bên có:

A. 5 hình vuông, 2 hình chữ nhật

B. 4 hình tròn, 2 hình tam giác

C. 4 hình vuông, 3 hình chữ nhật

D. . Cả A và B



Câu 9.(1đ) Số thích hợp điền vào chỗ chấm: $9 - 2 < \dots - 1 < 9 + 0$

Câu 10.(1đ) Viết phép tính thích hợp vào ô trống:



--	--	--	--	--

Câu 11. (1đ) Ba bạn Mai, Nam và Rô-bốt cùng chạy thi, Nam chạy nhanh nhất, Mai chạy thứ hai, Rô-bốt chạy thứ ba. Nếu bạn Hà ở giữa bạn Nam và Mai thì khi đó Rô-bốt chạy thứ mấy?

Câu 12. (1đ) Năm bạn thỏ đang chơi thì trời mưa, các bạn chạy vào trong cả hai chuồng. Hỏi mỗi chuồng có mấy con thỏ? Biết rằng số thỏ ở chuồng A nhiều hơn số thỏ ở chuồng B.

ĐÁP ÁN KIỂM TRA TOÁN LỚP 1

Câu 1: 6, 10 (0,5 điểm)

Câu 2: C (0,5 điểm)

Câu 3: Đ, S, S, Đ (0,5 điểm)

Câu 4: C (0,5 điểm)

Câu 5: (2 điểm)

a). Tính đúng kết quả mỗi bài được 0,25 điểm

b). Tính đúng kết quả mỗi bài được 0,5 điểm

Câu 6: (1 điểm) Điền dấu đúng mỗi bài 0,5 điểm

Câu 7: D (0,5 điểm)

Câu 8: D (0,5 điểm)

Câu 9: (1 điểm) Điền số đúng kết quả 1 điểm .

Câu 10: Điền số đúng kết quả 1 điểm .






Câu 11: (1 điểm) Trả lời đúng Rô-bốt chạy thứ tư

Câu 12: (1 điểm) Trả lời đúng chuồng A 3 con, chuồng B 2 con

*** Lưu ý : GV thực hiện cho điểm từng bài và tổng hợp điểm toàn bài lên trên. Điểm toàn bài được làm tròn số nguyên, không cho số thập phân**

Đề 2

Bài 1 (2 điểm): Điền số thích hợp vào ô trống:

	<input type="text"/>
	<input type="text"/>
	<input type="text"/>
	<input type="text"/>
	<input type="text"/>

Bài 2 (2 điểm): Điền số thích hợp vào chỗ chấm (theo mẫu):

Số	Phép tính
5, 3, 8	$3 + 5 = 8$ $8 - 3 = 5$
1, 4, 5	$1 + \dots = \dots$ $\dots - 4 = 1$
2, 4, 6	$2 + \dots = 6$ $6 - \dots = 4$
2, 7, 9	$7 + 2 = \dots$ $9 - 7 = \dots$

Bài 3 (2 điểm): Tính nhẩm:

$1 + 4 = \dots$

$2 + 5 = \dots$

$3 + 6 = \dots$

$9 - 4 = \dots$

$8 - 2 = \dots$

$6 - 1 = \dots$

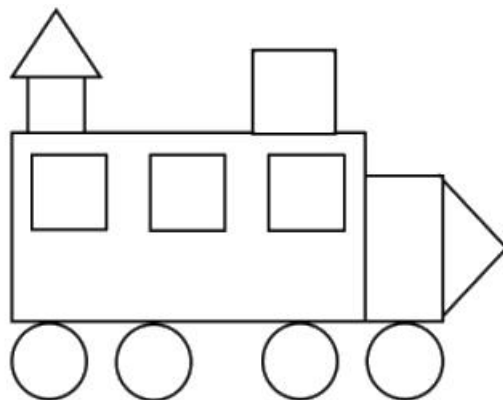
Bài 4 (2 điểm):

a) Điền số thích hợp vào chỗ chấm:

10,,, 7, 6,, 4,,, 1, 0






b) Sắp xếp các số 5, 1, 7, 2 theo thứ tự từ bé đến lớn.

Bài 5 (2 điểm): Hình vẽ dưới đây có bao nhiêu hình tròn, hình vuông và hình chữ nhật?



Đáp án Đề thi học kì 1 môn Toán lớp 1

Bài 1:

	9
	5
	8
	10
	7

Bài 2:

Số	Phép tính
5, 3, 8	$3 + 5 = 8$ $8 - 3 = 5$
1, 4, 5	$1 + 4 = 5$ $5 - 4 = 1$
2, 4, 6	$2 + 4 = 6$ $6 - 2 = 4$
2, 7, 9	$7 + 2 = 9$ $9 - 7 = 2$

Bài 3:

$1 + 4 = 5$

$2 + 5 = 7$

$3 + 6 = 9$

$9 - 4 = 5$

$8 - 2 = 6$

$6 - 1 = 5$

Bài 4:

a) 10, 9, 8, 7, 6, 5, 4, 3, 2, 1, 0

b) Sắp xếp: 1, 2, 5, 7

Bài 5:

Hình vẽ có 4 hình tròn, 5 hình vuông và 2 hình chữ nhật.

**MA TRẬN VÀ ĐỀ KIỂM TRA MÔN TOÁN LỚP 1 BỘ SÁCH:
CÙNG HỌC VÀ PHÁT TRIỂN NĂNG LỰC:**

Mạch kiến thức, kĩ năng	Số câu và số điểm	Mức 1 40%	Mức 2 40%	Mức 3 20%	Tổng
SỐ HỌC: - Đếm, đọc, viết, so sánh các số trong phạm vi 10; 20 . - Phép cộng, phép trừ trong phạm vi 10; 20 . - Thực hành giải quyết các vấn đề liên quan đến các phép tính cộng; trừ (Nối phép tính phù hợp với kết quả) - Điền số thích hợp vào chỗ trống.	Số câu	2	2	1	5
	Số điểm	4	4	2	10
Tổng	Số câu	2	2	1	10
	Số điểm	4	4	2	10

MA TRẬN CÂU HỎI MÔN TOÁN 1 CUỐI HỌC KÈ I

Mạch kiến thức, kĩ năng	Số câu	Mức 1 (40%)		Mức 2 (40%)		Mức 3 (20%)		TỔNG
		TN	TL	TN	TL	TN	TL	
Số học	Số câu	2			2		1	5
	Câu số	1;2			3;4		5	(100%)
Tổng	Số điểm	4		4		2		10
	Tỉ lệ	(40%)		(40%)		(20%)		(100%)

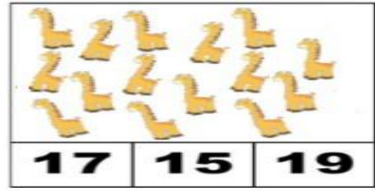
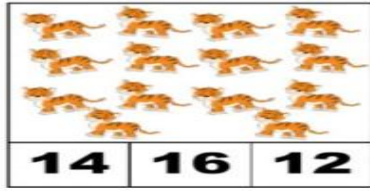
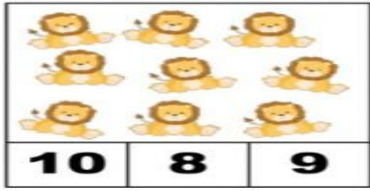
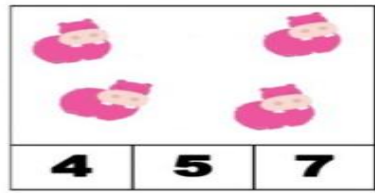
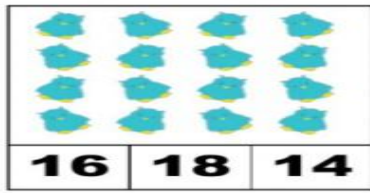

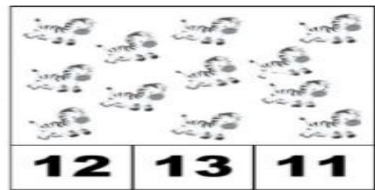
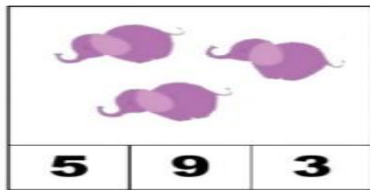
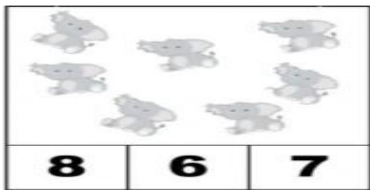
PHÒNG GD & ĐT
TRƯỜNG TIỂU HỌC.....

**KIỂM TRA CHẤT LƯỢNG CUỐI HỌC KÌ I
NĂM HỌC 2023 – 2024**

MÔN TOÁN LỚP 1
(Thời gian làm bài: 40 phút)

Họ và tên:		Lớp: 1....
Điểm		Nhận xét: Về kiến thức:.....
Bảng chữ		Về kĩ năng:.....

Bài 1 (2 điểm): Khoanh vào số thích hợp: (M1)



Bài 2: (2 điểm) Viết số thích hợp vào ô trống: (M1)

a.

0

3

5

8

10

b.

20

17

14

13

10

Bài 3 (2 điểm): Đặt tính rồi tính: (M2)

$11 + 3$

$17 + 2$

$16 - 5$

$18 - 8$

Bài 4 (2 điểm): Nối: (M 2)

$5 + 4$	14	$18 - 5$
$2 + 3$	13	$11 + 3$
$17 - 3$	9	$2 + 7$
$11 + 2$	10	$16 - 6$
$2 + 8$	5	$7 - 2$





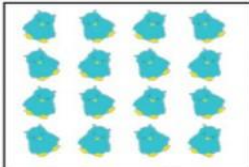




Bài 5 (2 điểm): Điền số thích hợp vào chỗ trống: (M3)

a) $3 + \square = 15$

b) $19 - \square = 12$

Đáp án Đề thi học kì 1 môn Toán lớp 1

Bài 1 (2 điểm): Khoanh vào số thích hợp: (M1)

 8 6 7	 5 9 3	 12 13 11
 20 19 17	 16 18 14	 4 5 7
 10 8 9	 14 16 12	 17 15 19

Bài 2: (2 điểm) Viết số thích hợp vào ô trống: (M1)

a.

0 1 2 3 4 5 6 7 8 9 10

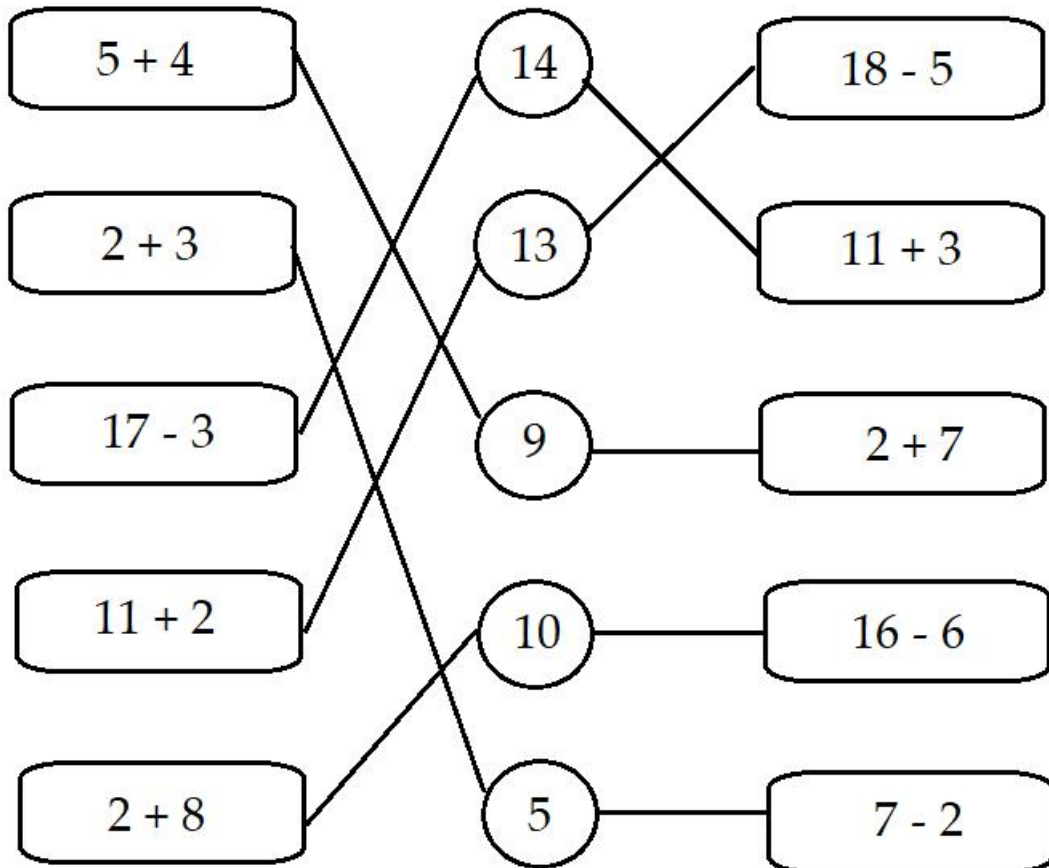
b.

20 19 18 17 16 15 14 13 12 11 10

Bài 3: Học sinh tự đặt phép tính rồi tính.

11	17	16	18
<u>+3</u>	<u>+2</u>	<u>-5</u>	<u>-8</u>
14	19	11	10

Bài 4:



Bài 5:

a) $3 + 12 = 15$

b) $19 - 7 = 12$

Đề thi kì 1 môn Toán lớp 1 năm 2023 - 2024 sách Kết nối tri thức với cuộc sống

TRƯỜNG TH.....

MA TRẬN ĐỀ KIỂM TRA CUỐI HỌC KỲ I MÔN TOÁN - LỚP 1

Năm học: 2023 - 2024

Mạch kiến thức, kĩ năng	Số câu và số điểm	Mức 1		Mức 2		Mức 3		Tổng	
		TN	TL	TN	TL	TN	TL	TN	TL
1. Số học: Đọc, viết, so sánh các số trong phạm vi 10	Số câu	1	2	1				2	2
	Số điểm	1,0	2,0	1,0				2,0	2,0
Cộng, trừ trong phạm vi 10	Số câu			1	1	1		2	1
	Số điểm			1,0	1,0	1,0		2,0	1,0
Viết phép tính thích hợp với hình vẽ.	Số câu						1		1
	Số điểm						1,0		1,0
2. Hình học: Nhận dạng các hình, khối hình đã học.	Số câu			1			1	1	1
	Số điểm			1,0			1,0	1,0	1,0
Tổng	Số câu	1	2	3	1	1	2	5	5
	Số điểm	1,0	2,0	3,0	1,0	1,0	2,0	5,0	5,0

TRƯỜNG TIỂU HỌC.....
Họ và tên.....
Lớp.....

BÀI KIỂM TRA LỚP 1
HỌC KÌ I - NĂM HỌC 2023 - 2024
Môn: TOÁN

(Thời gian: phút)

Điểm	Nhận xét của giáo viên

I/ TRẮC NGHIỆM (5 điểm)

Em hãy khoanh tròn vào chữ cái đặt trước kết quả đúng:

Câu 1: Các số bé hơn 8: (1 điểm) - M1

- A. 4, 9, 6 B. 0, 4, 7 C. 8, 6, 7

Câu 2: Kết quả phép tính: $9 - 3 = ?$ (1 điểm) – M2

- A. 2 B. 4 C. 6

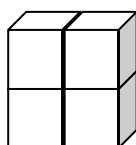
Câu 3: Sắp xếp các số 3, 7, 2, 10 theo thứ tự từ bé đến lớn (1 điểm) – M2

- A. 2, 3, 7, 10 B. 7, 10, 2, 3 C. 10, 7, 3, 2

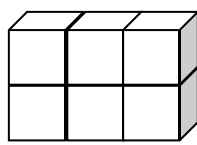
Câu 4: Số cần điền vào phép tính $8 + 0 = 0 + \dots$ là: (1 điểm) – M3

- A. 7 B. 8 C. 9

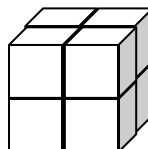
Câu 5: Hình nào là khối lập phương? (1 điểm) – M2



A



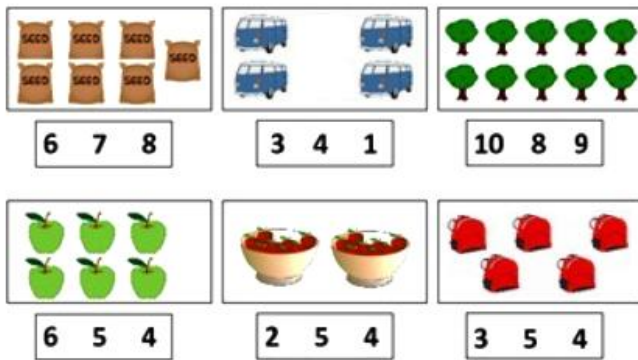
B



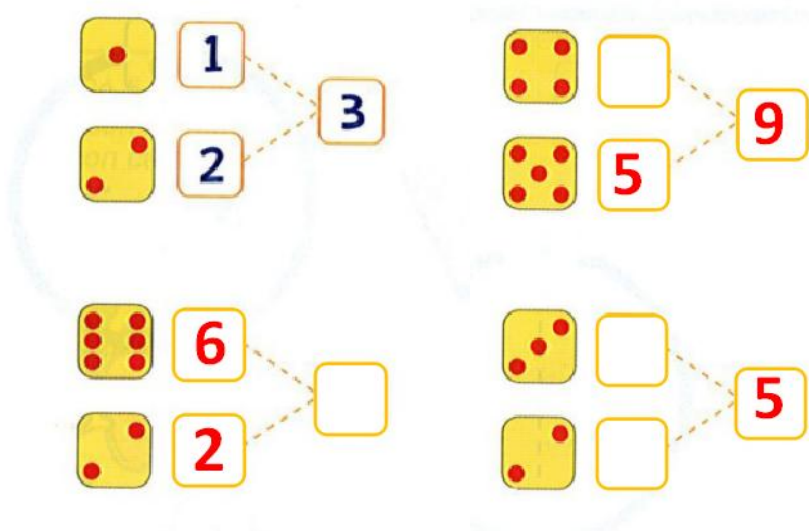
C

II/ TỰ LUẬN (5 điểm)

Câu 6: Khoanh vào số thích hợp? (1 điểm) - M1



Câu 7: Số (theo mẫu) (1 điểm) - M1



Câu 8: Tính (1 điểm) – M2

$8 + 1 = \dots\dots\dots$

$10 + 0 - 5 = \dots\dots\dots$

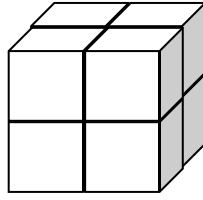
Câu 9: Viết phép tính thích hợp vào ô trống: (1 điểm) – M3



--	--	--	--	--

Câu 10: Số? (1 điểm) – M3

Cókhối lập phương?



ĐÁP ÁN VÀ BIỂU ĐIỂM

I. TRẮC NGHIỆM (5 điểm)

Câu hỏi	1	2	3	4	5
Đáp án	B	C	A	B	C
Điểm	1	1	1	1	1

II/ TỰ LUẬN (5 điểm)

Câu 6: Khoanh vào số thích hợp? (1 điểm)

Box 1: 7 bags of rice. Options: 6, 7, 8. **7** is circled.
 Box 2: 3 buses. Options: 3, 4, 1. **3** is circled.
 Box 3: 10 trees. Options: 10, 8, 9. **10** is circled.
 Box 4: 5 apples. Options: 6, 5, 4. **5** is circled.
 Box 5: 2 bowls of soup. Options: 2, 5, 4. **2** is circled.
 Box 6: 3 red lanterns. Options: 3, 5, 4. **3** is circled.

Câu 7: (1 điểm): Điền đúng mỗi số ghi 0,25 điểm

Left side:

- 1 dot → 3
- 2 dots → 3
- 6 dots → 8
- 2 dots → 8

 Right side:

- 4 dots → 9
- 5 dots → 9
- 3 dots → 5
- 2 dots → 5

Câu 8: (1 điểm) Tính đúng kết quả mỗi phép tính ghi 0,5 điểm

$$8 + 1 = 9$$

$$10 + 0 - 5 = 5$$

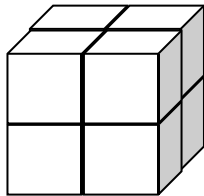
Câu 9: Viết phép tính thích hợp vào ô trống: (1 điểm)

Viết đúng phép tính thích hợp $4 + 3 = 7$ ($3 + 4 = 7$)

Viết đúng phép tính, tính sai kết quả (0,5 điểm)

Câu 10: Số? (1 điểm)

Có 8 khối lập phương



Đề thi kì 1 môn Toán lớp 1 năm 2023 - 2024 sách Cánh diều

ĐỀ 1

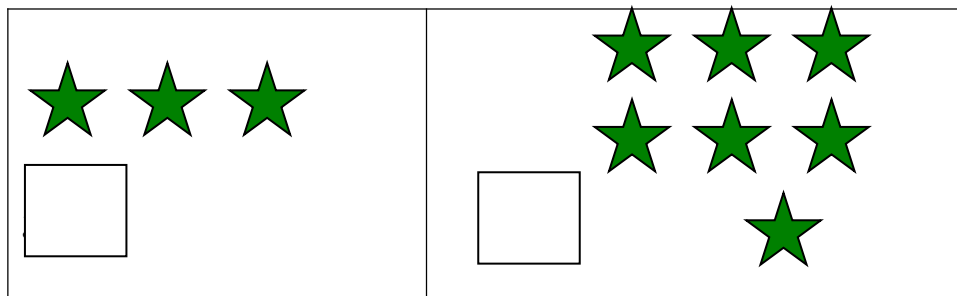
PHÒNG GD&ĐT HUYỆN.....
CÁC TRƯỜNG NHÓM 1

MA TRẬN ĐỀ KIỂM TRA CUỐI HKI - LỚP 1
MÔN: TOÁN
NĂM HỌC: 2023 – 2024

Mạch kiến thức, kỹ năng	Số câu và số điểm	Mức 1		Mức 2		Mức 3		Tổng	
		TN KQ	TL	TN KQ	TL	TN KQ	TL	TN KQ	TL
Số và phép tính	Số câu	3(1,2,3)	1(8)	1(4)	1(9)	1(5)	1(10)	5	3
	Số điểm	3,5	1,0	1,0	1,0	0,5	1,0	5,0	3,0
Hình học và đo lường	Số câu	1(7)		1(6)				2	
	Số điểm	1,0		1,0				2,0	
Tổng	Số câu	4	1	2	1	1	1	7	3
	Số điểm	4,5	1,0	2,0	1,0	0,5	1,0	7	3

I. PHẦN TRẮC NGHIỆM: (7điểm)

Câu 1: (1 điểm) Số ? (M1)



Câu 2: (1 điểm) (M1) Viết số còn thiếu vào ô trống :

a.

	4	5
--	---	---

b.

5		7
---	--	---

Câu 3: Khoanh vào chữ cái đặt trước kết quả đúng: (1,5 điểm) (M1)

a. + 4 = 7 (1 điểm)

A. 3

B. 0

C. 7

D. 2

b. 8.....9 (0,5 điểm)

A. >

B. <

C. =

Câu 4: (1 điểm) (M2): Đúng ghi Đ, sai ghi S vào ô trống

2 + 2 = 4

2 - 1 = 1

2 + 3 = 8

4 - 2 = 3


Câu 5: (0.5 điểm) (M3) 5 + 0 - 1 = ?

A. 4

B. 5

C. 6

Câu 6: (1 điểm) (M2)



Hình trên có....khối hộp chữ nhật

Câu 7: (1 điểm) (M1) nối với hình thích hợp

A. hình vuông



B. hình chữ nhật



II/ PHẦN TỰ LUẬN: (3 điểm)

Câu 8: Tính: (1 điểm)(M1)

$9 + 0 =$

$8 - 2 =$

$7 + 3 =$

$10 - 0 =$

Câu 9: Tính: (1 điểm)(M2)

$9 - 1 - 3 = \dots\dots\dots$

$3 + 4 + 2 = \dots\dots\dots$

Câu 10: (1 điểm) (M3) Viết Phép tính thích hợp với hình vẽ:



ĐỀ 2

PHÒNG GD VÀ ĐT
TRƯỜNG
KHỐI 1

MA TRẬN ĐỀ KIỂM TRA ĐỊNH KỲ MÔN TOÁN CUỐI HỌC KÌ I
Năm học: 2023 - 2024

Mạch kiến thức, kĩ năng	Số câu và số điểm	Mức 1		Mức 2		Mức 3		Tổng	
		TN KQ	TL	TN KQ	TL	TN KQ	TL	TN KQ	TL
Số học	Số câu	3	1	2			1	5	2
	Câu số	1,2,3	9	4, 6			10		
	Số điểm	3,0	1,0	2,0			1,0	5,0	2,0
Hình học	Số câu		1	1			1	1	2
	Câu số		7	5			8		
	Số điểm		1,0	1,0			1,0	1,0	2,0
Tổng	Số câu	3	2	3			2	6	4
	Số điểm	3,0	2,0	3,0			2,0	6,0	4,0

PHÒNG GD VÀ ĐT
TRƯỜNG
KHỐI 1

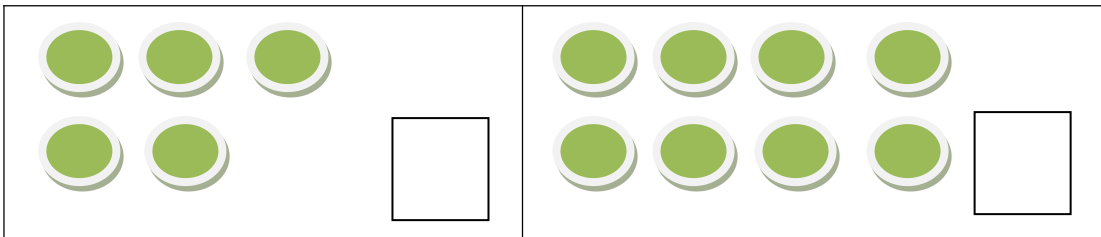
ĐỀ KIỂM TRA ĐỊNH KÌ MÔN TOÁN CUỐI HỌC KÌ I

Năm học : 2023 - 2024

Thời gian : 40 phút (không kể thời gian phát đề)

I. PHẦN TRẮC NGHIỆM: (6 điểm)

Câu 1: Số ? (1 điểm) (M1)



Câu 2: Viết số còn thiếu vào ô trống : (1 điểm) (M1)

4			7		
---	--	--	---	--	--

Câu 3: Khoanh vào chữ cái đặt trước kết quả đúng: (1,5 điểm) (M1)

a. $2 + 6 = \square$

A. 6

B. 4

C. 8

b. $4 \dots 8$

A. >

B. <

C. =

Câu 4: Đúng ghi Đ, sai ghi S vào ô trống. (1 điểm) (M2)

$4 + 2 + 3 = 9 \square$

$3 + 6 - 3 = 6 \square$

$9 - 2 - 3 = 4 \square$

$8 - 5 + 0 = 3 \square$

Câu 5: Hình dưới là khối? ? (1 điểm) (M2)



A. Khối hộp chữ nhật

B. Khối lập phương

Câu 6: Khoanh vào chữ cái đặt trước kết quả đúng: (0.5 điểm) (M2)

$$4 + 5 - 2 = ?$$


A. 7

B. 5

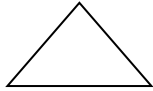
C. 6

II/ PHẦN TỰ LUẬN: (4 điểm)

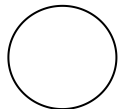
Câu 7: Nối với hình thích hợp (1 điểm) (M1)



Hình tròn







Hình vuông



Hình tam giác

Câu 8. Nối tên các đồ vật sau phù hợp với khối hộp chữ nhật, khối lập phương. (1 điểm) (M3)



Câu 9. Số (1 điểm) (M1)



3	+	1	=	
---	---	---	---	--

5	-	2	=	
---	---	---	---	--

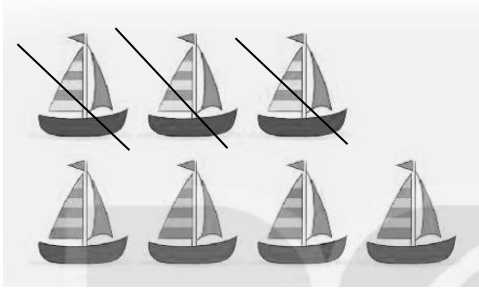
Câu 10. Xem tranh rồi viết phép tính thích hợp: (1 điểm) (M3)



a)

$$\square \bigcirc \square = \square$$

b)

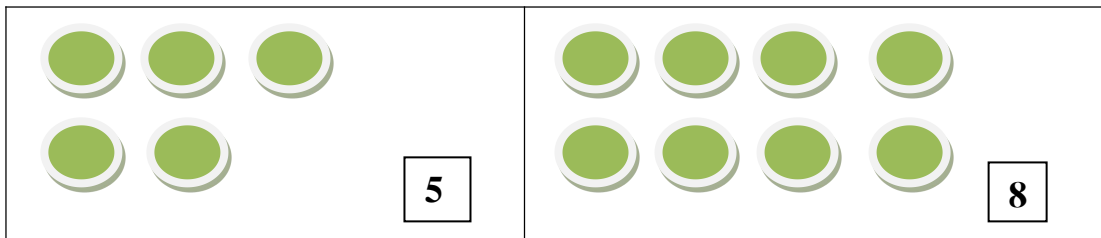


$$\square \bigcirc \square = \square$$

ĐÁP ÁN KIỂM TRA ĐỊNH KÌ MÔN TOÁN CUỐI HỌC KÌ I
Năm học : 2023- 2024

I. PHẦN TRẮC NGHIỆM: (6 điểm)

Câu 1: Số ? (1 điểm) (M1)



Câu 2: Viết số còn thiếu vào ô trống : (1 điểm) (M1)

4	5	6	7	8	9
---	---	---	---	---	---

Câu 3: Khoanh vào chữ cái đặt trước kết quả đúng: (1,5 điểm) (M1)

a. $2 + 6 =$

A. 6

B. 4

C. 8

b. $4 \dots 8$

A. $>$

B. $<$

C. $=$

Câu 4: Đúng ghi Đ, sai ghi S vào ô trống. (1 điểm) (M2)

$4 + 2 + 3 = 9$ Đ

$3 + 6 - 3 = 9$ S

$9 - 2 - 3 = 2$ S

$8 - 5 + 0 = 3$ Đ

Câu 5: Hình dưới là khối? ?(1 điểm) (M2)



A. Khối hộp chữ nhật

B. Khối lập phương

Câu 6: Khoanh vào chữ cái đặt trước kết quả đúng: (0.5 điểm) (M2)

A . 7

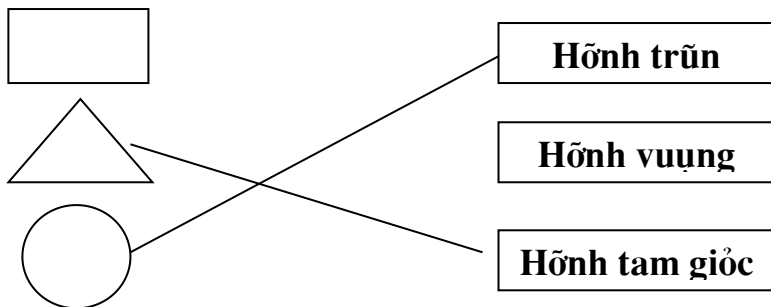
$4 + 5 - 2 = ?$

B . 5

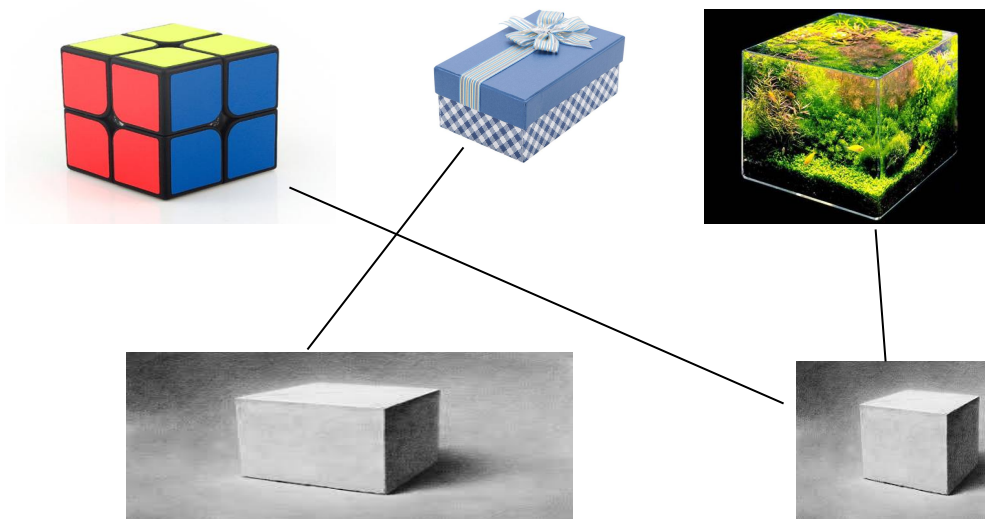
C . 6

II/ PHẦN TỰ LUẬN: (4 điểm)

Câu 7: Nối với hình thích hợp (1 điểm) (M1)



Câu 8. Nối tên các đồ vật sau phù hợp với khối hộp chữ nhật, khối lập phương. (1 điểm) (M3)



Câu 9. Số (1 điểm) (M1)




Câu 10. Xem tranh rồi viết phép tính thích hợp (1 điểm) (M3)

3	+	1	=	4
---	---	---	---	---

5	-	2	=	3
---	---	---	---	---

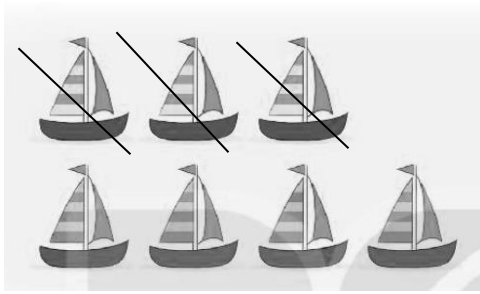
hợp: (1

a)



5	+	0	=	5
---	---	---	---	---

b)



$$\boxed{7} \ominus \boxed{3} = \boxed{4}$$



ĐỀ 1

ĐỀ KIỂM TRA CUỐI HỌC KỲ I

Bài 1: (1 điểm) Viết số thích hợp vào chỗ trống:

a/ 0; 1; 2;;; ...; 6;; 8;; 10.

b/ 10; 9;;; 6;; 4;; 2;; 0.

Bài 2: (2,5 điểm) Tính:

a/ $4 + 5 = \dots\dots\dots$

$4 + 3 + 2 = \dots\dots\dots$

$10 - 3 = \dots\dots\dots$

$8 - 6 - 0 = \dots\dots\dots$

b/

7	10	8	6
+	-	+	-
1	5	2	4
-----	-----	-----	-----
.....

Bài 3: Số (1 điểm)

$3 + \square = 8$; $9 - \square = 6$; $\square + 4 = 8$; $7 - \square = 5$

Bài 4: (1 điểm) Đọc, viết số?

năm hai ba

..... 7 6

Bài 5: Điền dấu $>$ $<$ $=$: (1,5 điểm)

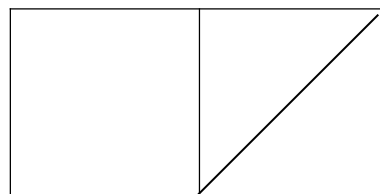
a/ $5 + 4 \square 9$

$6 \square 5$

b/ $8 - 3 \square 3 + 5$

$7 - 2 \square 3 + 3$

Bài 6: (1 điểm)



Hình vẽ

			=	6					=	9
--	--	--	---	---	--	--	--	--	---	---

bên có:

- Có.....hình tam giác
- Có.....hình vuông

Bài 7: (2 điểm) Viết phép tính thích hợp :

a. Có : 9 quả bóng.

Cho : 3 quả bóng.

Còn lại : ...quả bóng?

b. Điền số và dấu thích hợp để được phép tính đúng:

ĐỀ 2

ĐỀ KIỂM TRA HỌC KÌ I MÔN TOÁN Lớp 1

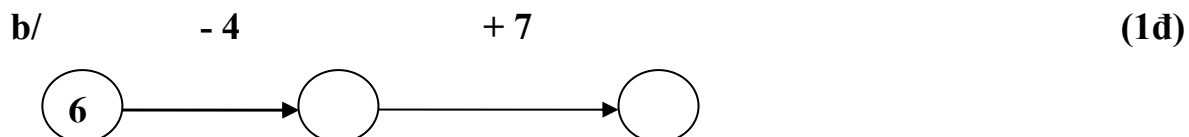
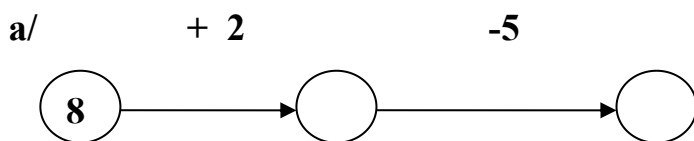
1/Tính:

$$\begin{array}{r} 6 \\ + \\ 3 \\ \hline \end{array} \quad \begin{array}{r} 5 \\ - \\ 1 \\ \hline \end{array} \quad \begin{array}{r} 7 \\ + \\ 2 \\ \hline \end{array} \quad \begin{array}{r} 9 \\ - \\ 6 \\ \hline \end{array}$$

(1đ)

2/ Tính: $6 + 2 =$ $9 - 5 =$ $4 + 3 - 6 =$
 $7 - 3 =$ $10 + 0 =$ $3 - 2 + 8 =$ (1,5đ)

3/ Số?



4/ Điền dấu đúng: $> < = ?$

9 $6 + 2$ 7 $8 - 2$ $5 + 3$ $3 + 5$

4 $8 - 5$ 6 $7 + 1$ $9 - 2$ $8 + 1$

(3đ)

5/ Điền số và phép tính thích hợp vào ô trống:

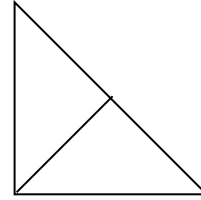
Có: 10 cây bút

Cho: 3 cây bút

Còn:cây bút

6/ Điền số thích hợp vào chỗ chấm.

Có :hình tam giác



(1đ)

ĐỀ 3

Đề kiểm tra học kì I lớp 1

Bài 1: (1 điểm)

a) Viết các số từ 0 đến 10:

b) Viết các số từ 10 đến 0:

Bài 2: (3 điểm) Tính:

a)

$\begin{array}{r} + 5 \\ + 3 \\ \hline \dots \end{array}$	$\begin{array}{r} + 6 \\ + 4 \\ \hline \dots \end{array}$	$\begin{array}{r} - 10 \\ - 3 \\ \hline \dots \end{array}$	$\begin{array}{r} - 7 \\ - 7 \\ \hline \dots \end{array}$
---	---	--	---

b)

$6 + 2 = \dots$	$6 + 2 + 2 = \dots$
$10 + 0 = \dots$	$10 - 5 - 3 = \dots$
$8 - 3 = \dots$	$4 + 3 - 2 = \dots$
$5 - 2 = \dots$	$9 - 4 + 5 = \dots$

Bài 3: (2 điểm)

S ?	$4 + \dots = 10$	$9 = 5 + \dots$
	$\dots + 3 = 5$	$8 = \dots + 6$
	$7 - \dots = 3$	$10 = 10 + \dots$
	$\dots - 5 = 0$	$10 = \dots + 7$

Bài 4: (1 điểm)


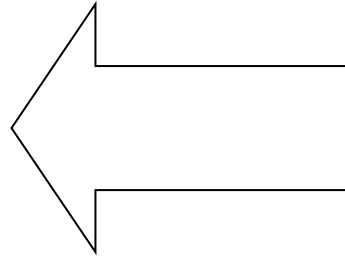
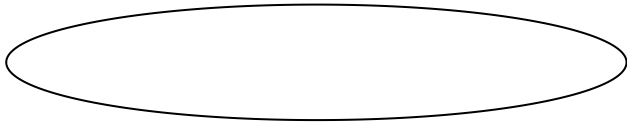
$\begin{array}{l} < \\ > \\ = \end{array}$?	$7 + 2$	<input type="checkbox"/>	$2 + 7$	$9 - 3$	<input type="checkbox"/>	$6 + 2$
	$3 + 4$	<input type="checkbox"/>	$10 - 5$	$4 + 4$	<input type="checkbox"/>	$4 - 4$

Bài 5: (1 điểm)

a) Khoanh tròn vào số lớn nhất: 5; 2; 8; 4; 7

b) Khoanh tròn vào số bé nhất: 8; 6; 9; 1; 3

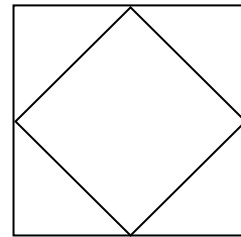
Bài 6: (1 điểm)



Bài 7: (1 điểm)

Hình bên có:

- hình tam giác.
- hình vuông



ĐỀ 4

ĐỀ KIỂM TRA CUỐI KÌ I

MÔN TOÁN

A. ĐỀ BÀI

Bài 1: Điền số thích hợp vào ô trống. (1điểm)

0	1		3		5	6			9	
---	---	--	---	--	---	---	--	--	---	--

Bài 2: Điền số theo mẫu: (1 điểm)

$\begin{array}{r} 000 \\ 0 \end{array}$	$\begin{array}{r} 000 \\ 000 \end{array}$	$\begin{array}{r} 0000 \\ 0000 \end{array}$	$\begin{array}{r} 000 \end{array}$	$\begin{array}{r} 0000 \\ 000 \end{array}$	$\begin{array}{r} 000 \\ 00 \end{array}$
4

Bài 3: Viết các số: 5, 9, 2, 7 (1điểm)

a. Theo thứ tự từ bé đến lớn:.....

b. Theo thứ tự từ lớn đến bé:.....

Bài 4: Tính (1 điểm)

a. $2 + 5 - 0 =$

$2 + 3 + 4 =$

b. $\begin{array}{r} 8 \\ + 0 \\ \hline \dots \end{array}$

$\begin{array}{r} 2 \\ + 7 \\ \hline \dots \end{array}$

Bài 5: Điền số thích hợp vào ô trống: (2 điểm)

$$10 - \square = 6$$

$$\square + 7 = 9$$

$$\square + 8 = 10$$

$$8 - \square = 4$$

Bài 6: (1 điểm)


$<$ $>$ $=$	$5 \dots\dots 8$	$7 \dots\dots 7$
	$9 \dots\dots 6$	$8 \dots\dots 10$

Bài 7: Đúng ghi Đ, Sai ghi S: (0,5 điểm)

$$2 + 6 = 8 \quad \square$$

$$9 - 5 = 3 \quad \square$$

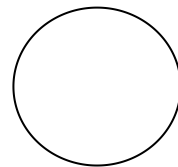
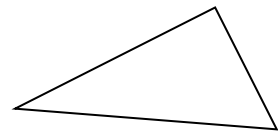
Bài 8: Nối (theo mẫu): (0,5 điểm)



Hình tròn

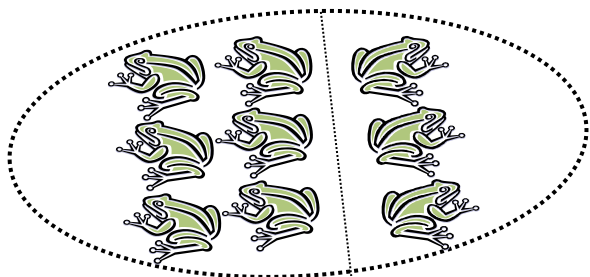
Hình tam giác

Hình vuông



Bài 9: (1 điểm)

a. Viết phép tính thích hợp vào ô trống:



--	--	--	--	--

b. Viết phép tính thích hợp vào ô trống

Có: 8 quả cam

Cho: 2 quả cam

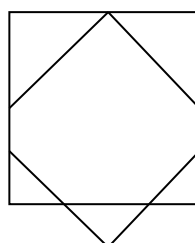
Còn:.....quả cam?

--	--	--	--	--

Bài 10: Hình bên có: (1 điểm)

a. Có hình vuông

b. Có hình tam giác



ĐỀ 5

Bài kiểm tra cuối học kì I

Câu 1: Tính: (1 đ)

$$1 + 1 = \quad 2 + 3 = \quad 5 + 4 = \quad 7 + 2 =$$

Câu 2: Số : (2 đ)

$$3 + \dots = 7 \quad 8 - \dots = 5$$

$$4 + \dots = 9 \quad 6 - \dots = 2$$

$$2 + \dots = 5 \quad \dots - 4 = 6$$

Câu 3: Điền dấu thích hợp vào ô vuông: ($<$, $>$, $=$) (2 đ)

$$4 + 1 \square 5 \quad 2 + 2 \square 3$$


$$5 \square 1 + 2 \quad 3 - 1 \square 1$$

Câu 4: Trong các số : 6, 2, 4, 5, 8, 7 (1 đ)

a) Số nào bé nhất :

b) Số nào lớn nhất :

Câu 5: Hình bên có mấy hình vuông? 1 đ



A. 5 B. 4 C. 3

Câu 6: Thực hiện các phép tính : $4 + 2 - 3 = ?$ (1 đ)

A. 2

B. 3

C. 5

Câu 7: Thực hiện phép tính thích hợp (2 đ)

Có: 4 con bướm

Thêm: 3 con bướm

Có tất cả : con bướm

--	--	--	--	--

ĐỀ 6

Thứ ngày tháng năm 2010

Kiểm tra cuối học kì I

Môn: Toán - lớp 1

Thời gian làm bài: 40 phút

Họ và tên:Lớp:

Điểm

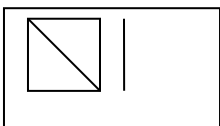
Lời phê của thầy cô giáo

Bài 1. (1 điểm)

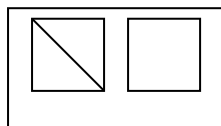
a) Điền số vào ô trống :

1; 2; ;;; 6;; 8; 9; 10

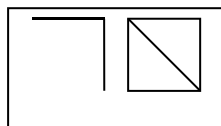
b) Điền số vào chỗ chấm (...) theo mẫu:



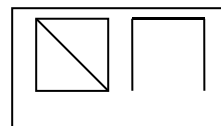
..6..



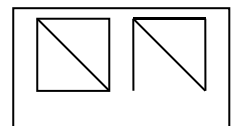
.....



.....

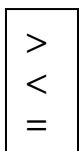


.....



.....

Bài 2. (1 điểm)



$3 + 5 \quad \square$

$2 + 6 \quad 7 \square$

$7 + 2 \quad \square + 4$

$9 - 3 \quad 4 \square$

Bài 3. (3 điểm) Tính:

a)
$$\begin{array}{r} 6 \\ + 3 \\ \hline \end{array}$$

$$\begin{array}{r} 5 \\ + 2 \\ \hline \end{array}$$

$$\begin{array}{r} 8 \\ + 0 \\ \hline \end{array}$$

$$\begin{array}{r} 8 \\ - 7 \\ \hline \end{array}$$

$$\begin{array}{r} 9 \\ - 5 \\ \hline \end{array}$$

.....

b) $3 + 4 - 5 = \dots\dots\dots$

c) $8 - 3 + 4 = \dots\dots\dots$

Bài 4. (1 điểm) Viết các số 2; 5; 9; 8:

a) Theo thứ tự từ bé đến lớn:

b) Theo thứ tự từ lớn đến bé:

S

Bài 5. (1điểm) ?

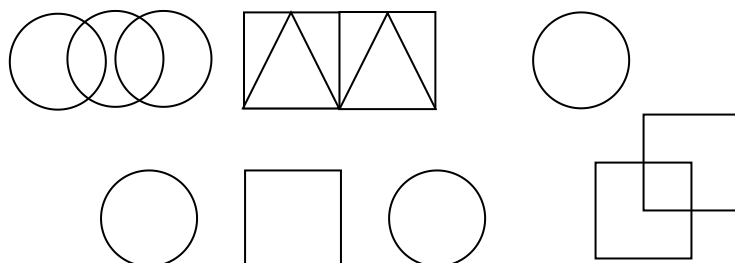
$$4 + \square = 6$$

$$\square + 5 = 8$$

$$\square - 2 = 8$$

$$7 - \square = 1$$

Bài 6. (1điểm) Điền số thích hợp vào chỗ chấm :



- a) Có..... hình tròn.
- b) Có hình tam giác.
- c) Có hình vuông.

Bài 7.(2điểm) Viết phép tính thích hợp:

- a) Có: 7 quả
- Thêm: 2 quả
- Có tất cả: ... quả

--	--	--	--	--

b) Điền số và dấu thích hợp để được phép tính đúng

			=	8
--	--	--	---	----------

			=	6
--	--	--	---	----------

ĐỀ 7

Đề kiểm tra học kì I Lớp Một





Năm học : 2008 – 2009

Môn: **Toán**

Câu 1/ Viết (3 đ)

a/ Viết các số từ 5 đến 10:

b/ Viết số vào chỗ chấm :



.....

.....

.....

.....

c/ Đọc các số:

8:

10:

9:

1:

Câu 2 / Tính : (2 đ)

a/
$$\begin{array}{r} + 8 \\ \underline{\quad} \\ 2 \end{array}$$

$$\begin{array}{r} + 0 \\ \underline{\quad} \\ 9 \end{array}$$

$$\begin{array}{r} 10 \\ - \quad \\ \underline{\quad} \\ 6 \end{array}$$

$$\begin{array}{r} \quad 6 \\ - \quad \\ \underline{\quad} \\ 3 \end{array}$$

b/ $8 - 5 = \dots$

$7 + 3 = \dots$

$1 + 4 + 5 = \dots$

$2 - 1 + 9 = \dots$

Câu 3 / Viết các số 9 , 6 , 3 , 1 , 8 : (1 đ)

a/ Theo thứ tự từ bé đến lớn :,,,,

b/ Theo thứ tự từ lớn đến bé :,,,,

Câu 4 / Điền số thích hợp vào chỗ chấm : (1 đ)

$$\dots + 1 = 6 \qquad \boxed{} \boxed{} \boxed{} \boxed{} \boxed{} \qquad 5 + \dots = 9 \qquad \dots - 5$$

$$= 5 \qquad 10 - \dots = 10$$


Câu 5 / Điền dấu > < = vào ô trống : (1 đ)

$$4 + 3 \quad \boxed{} \quad 8 \qquad 9 - 2 \quad \boxed{} \quad 10 - 7$$

$$10 - 1 \quad \boxed{} \quad 8 + 0 \qquad 5 \quad \boxed{} \quad 10 - 5$$

Câu 6 / (1 đ)

Viết phép tính thích hợp :



ĐỀ 8

Phòng GD-ĐT.....

Thứ ... ngày ... tháng ... năm

Trường Tiểu học

KIỂM TRA HỌC KỲ I

Họ và

tên:

MÔN: TOÁN

.

Lớp 1A...

THỜI GIAN: 40 phút

1. Tính: (2 điểm)

a/

$$\begin{array}{r} + 4 \\ \underline{6} \\ \dots \end{array}$$

$$\begin{array}{r} - 9 \\ \underline{3} \\ \dots \end{array}$$

$$\begin{array}{r} + 5 \\ \underline{3} \\ \dots \end{array}$$

$$\begin{array}{r} + 2 \\ \underline{7} \\ \dots \end{array}$$

$$\begin{array}{r} - 10 \\ \underline{8} \\ \dots \end{array}$$

$$\begin{array}{r} + 1 \\ \underline{8} \\ \dots \end{array}$$

$$\begin{array}{r} + 10 \\ \underline{0} \\ \dots \end{array}$$

b/

$10 - 4 + 3$

$= \dots$

$6 + 2 - 3$

$= \dots$

$10 - 5 + 2$

$= \dots$

$7 - 4 + 6$

$= \dots$

$10 + 0 - 4$

$= \dots$

$8 - 3 + 3$

$= \dots$

2. Số? (2 điểm):

$9 = \dots + 4$

$10 = 7 + \dots$

$9 = 10 - \dots$

$3 + \dots > 9 - 1$

$10 - 4 < 7 - \dots$

$\dots - 8 = 9 - 1$

$3 + 6 < 7 + \dots$

$\dots - 5 > 3 + 1$

$10 - \dots = 8 - 2$

3. Viết các số: 8; 1; 5; 4; 7; 2. (2 điểm)

a/ Theo thứ tự từ bé
đến lớn:

b/ Theo thứ tự từ lớn
đến bé:

4. Viết phép tính thích hợp (2 điểm)



Lan có: 6 lá cờ } ? lá

Có: 9 quả cam

Hồng có: 4 lá cờ

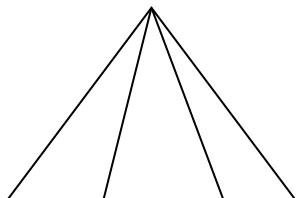
Cho: 4 quả cam

Còn: ? quả cam



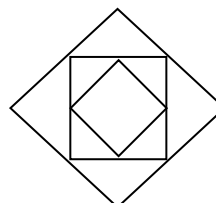
5. Trong hình dưới đây (2 điểm)

a/



Có hình tam giác

b/



Có hình vuông

ĐỀ 9

Lớp:

Đề kiểm tra môn: Toán học kỳ I

Họ và

tên:

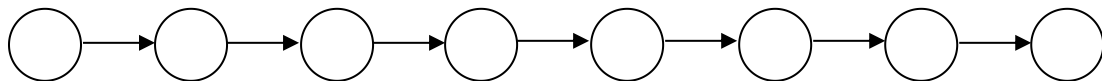
Bài 1 : Điền số.

$$\begin{array}{cccccc} 5 + \dots = 9 & \dots - 6 = 3 & 5 + \dots = 8 & \dots + 2 = 7 & 6 + 3 = \dots & \\ \dots + 7 = 8 & 9 - \dots = 5 & \dots + 5 = 7 & 1 + \dots = 6 & 9 - 5 = \dots & \end{array}$$

Bài 2 : Tính.

$$\begin{array}{cccccc} 9 - 1 = \dots & 7 + 2 = \dots & 9 - 4 = \dots & 9 - 7 = \dots & 9 - 5 = \dots & 8 - 7 = \dots \\ 6 + 2 = \dots & 9 - 0 = \dots & 8 - 3 = \dots & 8 - 6 = \dots & 7 - 3 = \dots & 9 - 8 = \dots \\ 7 + 1 = \dots & 0 + 9 = \dots & 2 + 3 = \dots & 5 - 3 = \dots & 6 - 2 = \dots & 6 - 5 = \dots \end{array}$$

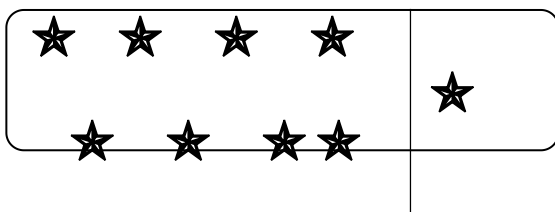
Bài 3 : Viết các số 6, 5, 0, 2, 10, 7, 4, 3 theo thứ tự từ bé → lớn.




Bài 4 : Đúng ghi “đ”, sai ghi “s” vào ô trống.

$$\begin{array}{cccc} 6 > 0 & \square & 2 < 3 < 4 & \square \\ 2 + 3 > 5 & \square & 7 = 7 & \square \\ 3 < 9 & \square & 5 + 0 = 5 & \square \\ 4 > 7 > 8 & \square & 3 < 1 & \square \end{array}$$

Bài 5 : Viết phép tính thích hợp.



--	--	--	--	--



--	--	--	--	--

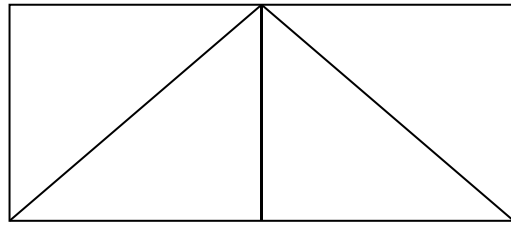
Bài 6 : Khoanh vào chữ cái trước ý trả lời đúng:

Hình bên có số hình tam giác là:

A. 4

B. 5

C. 6



Bài 7 : Đặt phép tính thích hợp: “ + ” hoặc “ - ”

1..... $2 = 3$

2..... $1 = 3$

1..... $1 = 2$

1..... $4 = 5$

.3..... $1 = 2$

3..... $2 = 1$

2..... $1 = 1$

2..... $2 = 4$

4..... $2 = 2$

4..... $3 = 1$

3..... $3 = 0$

3..... $2 = 5$

9..... $5 = 4$

8..... $6 = 2$

6..... $3 = 9$

7..... $3 = 10$

3..... $6 = 9$

2..... $6 = 8$

7..... $1 = 8$

5..... $3 = 8$

ĐỀ 10

TRƯỜNG TH.....


ĐỀ KIỂM TRA CUỐI HỌC KÌ I NĂM

MÔN TOÁN LỚP 1


1. Viết

a/ Các số từ 1 đến 10:.....


b/Theo mẫu:



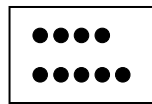
3




.....



.....



.....



.....

c/Đọc số: 7 :bảy 10 :..... 3 :..... 8 :..... 5 :.....

2.Tính:

a/	5	8	9	10
	+	+	-	-
	4	2	3	6
	—	—	—	—

b/ $7 + 2 =$ $6 - 0 =$ $5 + 3 - 4 =$ $8 - 0 + 1 =$

3. Viết các số 3; 6; 9; 2:

a/Theo thứ tự từ bé đến lớn.....

b/ Theo thứ tự từ lớn đến bé.....

4. Điền số thích hợp vào chỗ chấm:

$3 + \dots = 7$ $\dots + 6 = 8$

$8 - \dots = 4$ $\dots - 5 = 0$

5. Điền dấu > < = vào chỗ chấm

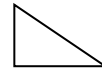
$4 + 3 \dots 7$

$5 + 2 \dots 6$

$8 - 5 \dots\dots 4$

$7 - 0 \dots\dots 4 + 2$

6.



Có.....hình tam giác



Có.....hình tròn

Có.....hình tam giác

7. Viết phép tính thích hợp:

a/ Có : 6 viên kẹo

Được cho thêm : 2 viên kẹo

Có tất cả : ? viên kẹo



b/ Điền số và dấu thích hợp để được phép tính đúng:

